


Spiegelingen

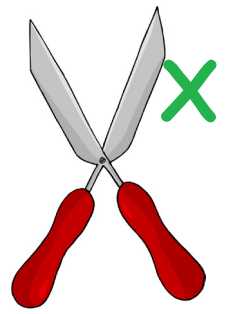
1. Wat wordt het?

Wat komt er uit deze vouwsnedes?

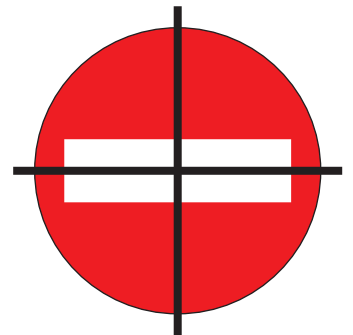
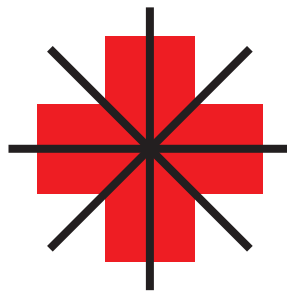


2. Spiegelgelijke figuren:

a.) Welke van deze figuren zijn spiegelgelijk?



b.) Teken de spiegelsymmetrieën in.



c.) Kleur de andere kant met dezelfde kleuren in.

