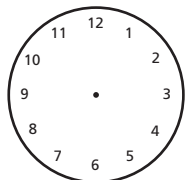


## Tijdseenheden: uren - minuten

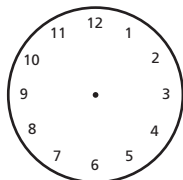


### 1. De wijzers intekenen:

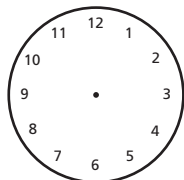
Teken de wijzers in. Vul ook de tweede tijd zoals in het voorbeeld in.



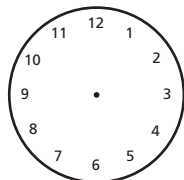
19.10 uur



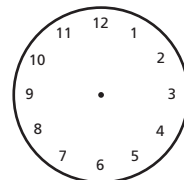
16.45 uur



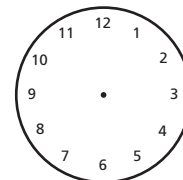
10.20 uur



14.55 uur



20.05 uur



11.30 uur

of

of

of

of

of

of

7.10 uur

### 2. De radio heeft een digitale display. Teken de tijdaanduiding in de uurwerken in.

15 : 35

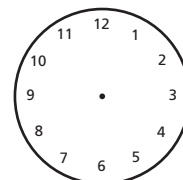
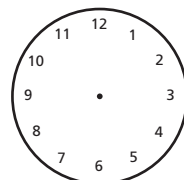
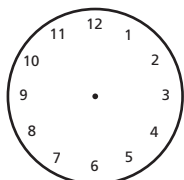
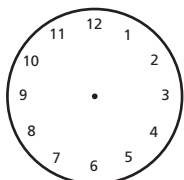
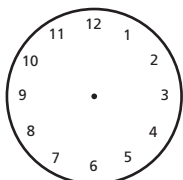
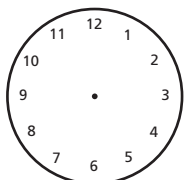
03 : 20

23 : 15

19 : 40

20 : 55

09 : 10



06 : 55

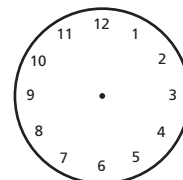
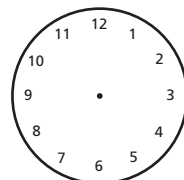
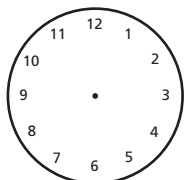
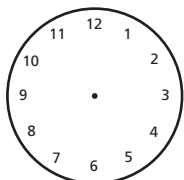
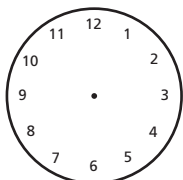
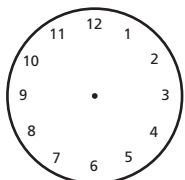
10 : 05

22 : 25

18 : 30

17 : 15

14 : 50



### 3. Reken de volgende opgaven uit:

a.) Ruud rijdt met zijn fiets 17 min. langer dan 2 uur. Hoelang rijdt Ruud met de fiets?

b.) Denise werkt 8 min. korter dan 1 uur. Hoe lang heeft ze gewerkt?

c.) Marion kookt 20 min. langer dan 1 uur. Hoe lang heeft Marion gekookt?

d.) Papa kijkt 37 min. televisie. Achter de PC brengt hij 1 uur 23 min. door. Bereken het tijdsverschil.

e.) De familie Peters is voor de vakantiereis 198 min. onderweg. Zet om in uren en min.

f.) Moeder heeft 14 min. nodig om de was te wassen. Hoe lang is de wasmachine in werking, wanneer moeder de wasmachine 4 maal aan moet zetten? Duurt dit langer dan 1 h?