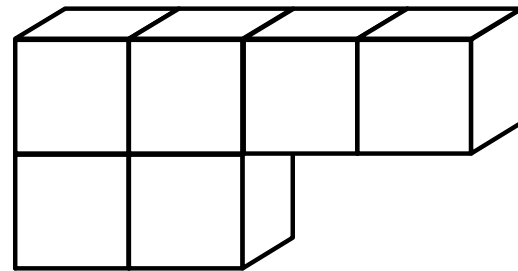
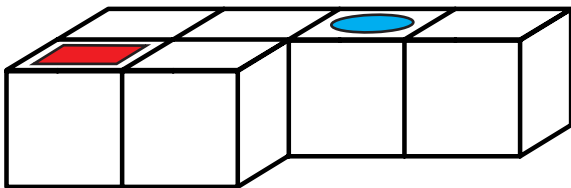
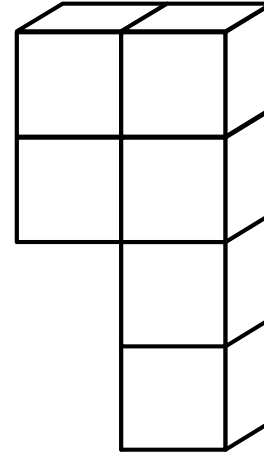
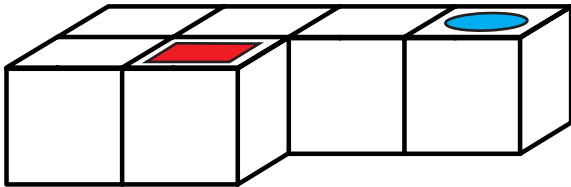


Perspectief denken en getallenquiz

1

Hier zie je op het linker-lichaam steeds twee verschillende vormen. Breng ze over op het rechter lichaam. Denk goed na!



2

Probeer uit de 3 volgende cijfers zo veel mogelijk driecijferige nummers te vormen, schrijf alle combinaties die je kunt bedenken op de lijnen aan de rechterkant!

3 5 0

Men kan driecijferige nummers vormen.

9 7 4

Men kan driecijferige nummers vormen.