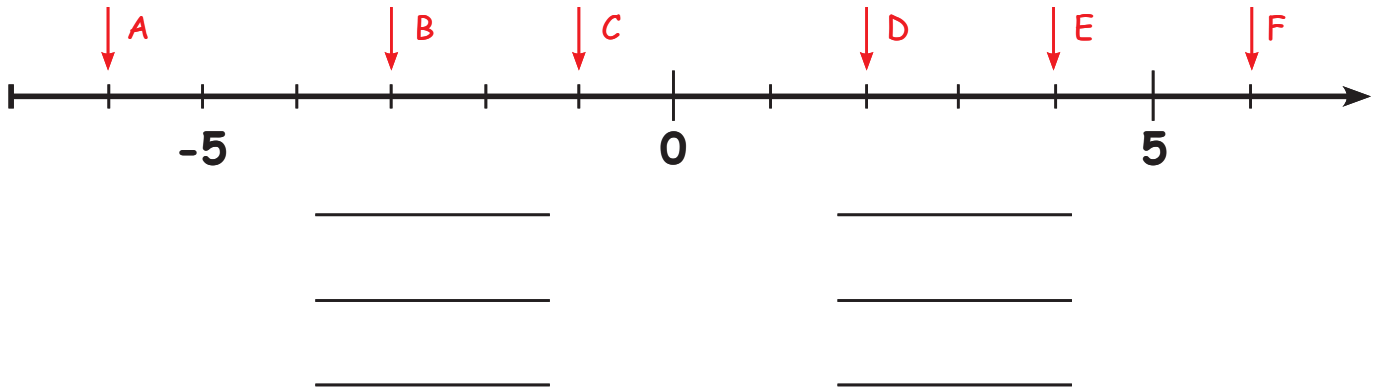


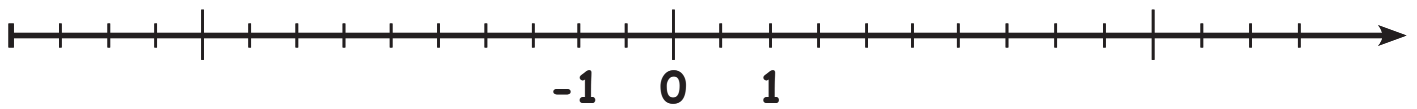
Getallen op de getallenlijn



Lees de gemarkeerde getallen af en schrijf ze op de lijnen!



Markeer de gegeven getallen op de getallenlijn!



A -1,5


D 0,5

B 6,5

E 2,5

C -5,5

F -3,5



Verdeel de getallenlijn zinnig en markeer de gegeven getallen!



A -9,5

C -8,5

E 0,5

B 2,5

D -6

F -7,5



A -4

C 6

E 4

B 2

D -1

F -2