

Geldzaken

Euro's en centen




a) Lees goed en schrijf op! Bijvoorbeeld: € 2,99 of 2 € 99 c!

| | | | |
|------------------------|------------------------|------------------------|------------------------|
| € 1,99 of _____ | € 0,25 of _____ | € 12,36 of _____ | € 6,89 of _____ |
| € 0,54 of _____ | € 31,72 of _____ | € 4,03 of _____ | € 63,01 of _____ |
| € 72,10 of _____ | € 99,12 of _____ | € 59,91 of _____ | € 15,03 of _____ |


b) Als je gaat winkelen, krijg je vaak wisselgeld terug. Bereken, hoeveel de verkoopster je teruggegeven heeft. Kleur daarna de cirkels in. Let steeds op het aantal cirkels.

(1 cent = **geel**, 2 cent = **rood**, 5 cent = **groen**, 10 cent = **blauw**, 20 cent = **bruin**, 50 cent = **grijs**)


€ 1 - 63 c = _____ - wisselgeld:



€ 1 - 41 c = _____ - wisselgeld:



€ 1 - 84 c = _____ - wisselgeld:



€ 1 - 22 c = _____ - wisselgeld:



€ 1 - 13 c = _____ - wisselgeld:

