

Even en oneven getallen

Fabian en Sabina hebben van hun oma 8 snoepjes gekregen.

Ze verdelen deze eerlijk:


Ieder krijgt ____ snoepjes.



Andrew en Alexandra hebben van hun opa 9 snoepjes gekregen.

Ieder krijgt ____ snoepjes

Er blijft ____ snoepje over.



Deel, indien mogelijk in twee gelijke delen!

$2 = 1 + \underline{\quad}$				

2, 4, 6, 8, etc. zijn **even** getallen!
 1, 3, 5, 7, 9, etc. zijn **oneven** getallen!



Even en oneven getallen

Ga verder met de getallenreeks!


2	4	6	8	10
12	14			
22				30
32				
		46		
	54			
				70




Vul in de lege vakjes alleen de even nummers in!





72				
82				





11	
21	





38		40
48		
		70





52				
62				
				76

